

Форма бланка ответов

Время: 60
Трашкин: 50
Итого: 110

ТИТУЛЬНЫЙ ЛИСТ

Всероссийская олимпиада школьников по основам безопасности
жизнедеятельности 2023/24 уч. г.

Школьный этап

Шифр участника

0	Б	Ж	0	9	0	4
---	---	---	---	---	---	---

Фамилия Ежова

Имя Полина

Отчество Сергеевна

Класс 9

Сокращенное наименование образовательной организации (школы)

МБОУ "Кочевская ООШ"

Председатель: ИИ / Кочуров А.А.

Члены жюри: ИИ / Минибев Ш.Ш.
ИИ / Асгаров А.А.

Всероссийская олимпиада школьников
по предмету «Основы безопасности жизнедеятельности»
школьный этап 2023/2024 учебный год
9 класс

ШИФР

БЛАНК ОТВЕТОВ

Время выполнения 90 мин. Максимальное количество баллов – 100

1. Тестовые задания

Определите один правильный ответ.

1. Как необходимо тушить горящую вертикальную поверхность огнетушителем?

- а) сверху вниз
- б) справа налево
- в) слева направо
- г) снизу вверх

Ответ Г

2. Что из перечисленного обеспечивает наибольшую защиту органов дыхания, лица и глаз?

- а) ПТМ-1
- б) ПДФ-Ш
- в) ПТМ-2
- г) Р-2

Ответ Б

3. По какому из перечисленных ниже показателей должен осуществлять подбор письменного стола для обучающегося?

- а) возраст
- б) масса тела
- в) длина тела
- г) класс

Ответ

Б

4. Какое из нижеперечисленных утверждений является основным правилом иммобилизации при вывихе?

- а) для иммобилизации нельзя использовать подручный материал
- б) для иммобилизации применять только повязку
- в) пытаться вправить смещённые кости, а затем фиксировать конечность
- г) конечность фиксировать в таком положении, в котором она оказалась в результате травмы

Ответ: Г

5. Какое из нижеперечисленных ранений может привести к опасной для жизни кровопотере в течение 2–4 минут при прочих равных условиях?

- а) повреждение артерии бедра
- б) повреждение артерии предплечья
- в) повреждение артерии нижней трети голени
- г) повреждение артерий кисти

Ответ Г

Определите все правильные ответы.

6. Что из перечисленного относится к средствам защиты человека при пожаре?

- а) СОН «Шанс»
- б) ГП-7В
- в) Л-1
- г) ОЗК
- д) ГЗДК

Ответ а; г

7. Какие из перечисленных растений являются опасными для человека?

- а) борщевик
- б) будра плющевидная
- в) паслен сладко-горький
- г) горюх кукушкин
- д) гравилат городской

Ответ а; г

8. В каких местах наиболее опасно находиться, если в помещении присутствует толпа людей?

- а) в углах
- б) в проходах
- в) возле стен
- г) в дверях
- д) в рекреации

Ответ а; б

9. Какие из признаков свидетельствуют об улучшении погоды?

- а) давление постепенно падает
- б) туман стелется по долинам
- в) давление постепенно растёт
- г) ночью выпадает обильная роса
- д) вечерняя заря имеет ярко-красный цвет

Ответ г; д

10. Что из указанного относится к простейшим укрытиям?

- а) горная выработка
- б) перекрытая щель
- в) землянка
- г) ПРУ
- д) первый этаж зданий

Ответ б

11. С каким интервалом и в течение скольких минут передается информационное сообщение о ЧС?

- а) с интервалом 30 секунд
- б) с интервалом 50 секунд
- в) в течение 5 минут
- г) в течение 10 минут
- д) в течение 8 минут

Ответ б

12. Какие ЧС относятся к техногенным?

- а) зажоры
- б) магнитные бури
- в) прорывы плотин
- г) обрушение зданий
- д) экстремальные температуры

Ответ г; б

13. Какие показатели используют для оценки физического развития человека?

- а) артериальное давление
- б) масса тела
- в) пульс
- г) длина тела
- д) содержание глюкозы в крови

Ответ а; б

14. Где должны располагаться руки «спасателя» при проведении непрямого массажа сердца пострадавшему?

- а) центр грудины (ориентировочно)
- б) справа от грудины
- в) слева от грудины
- г) на 3–4 см выше нижнего края грудины
- д) на 1–2 см ниже верхнего края грудины

Ответ а

15. Какие средства имеются в аптечке первой помощи (автомобильной) для остановки (временной остановки) артериального кровотечения?

- а) бинт эластичный
- б) кровоостанавливающий жгут
- в) бинты марлевые
- г) лейкопластырь
- д) перекись водорода, 0,5% раствор

Ответ а; б

Теоретические задания

Задание 1. В жилом доме возник пожар. На Ваших глазах из очага пожара выбежал человек в горящей одежде. Горит рубашка в области спины. Как оказать первую помощь пострадавшему? Заполните таблицу, отмечая знаком «+» мероприятия, которые необходимо выполнить для оказания первой помощи, и знаком «-» – мероприятия, которые запрещены, если у пострадавшего в месте ожога отмечаются целые и лопнувшие пузыри.


Необходимо выполнить, отметить «+»	Мероприятия первой помощи	Нельзя делать, отметить «-»
+	1. Устранить действие повреждающего агента (потушить одежду).	
	2. Уложить пострадавшего на живот	-
+	3. Убрать с места повреждения пригоревшую к тканям одежду	
	4. Вскрыть образовавшиеся пузыри	-
	5. Наложить чистую сухую	





	ткань на место ожога	—
+	6. Приложить холодную мокрую ткань на место ожога	
+	7. Приложить холод поверх ткани (повязки)	
	8. Дать обильное питьё	—
	9. Смазать место ожога маслом (жиром)	—
+	10. Вызвать скорую медицинскую помощь	

Задание 2. Опишите порядок действий при получении распоряжения на проведение эвакуации.

- 1) Включить новости и узнать место сбора эвакуации
- 2) Собрать необходимые вещи и документы
- 3) Выключить все приборы в доме
- 4) Выйти из дома и запереть на ключ входную дверь
- 5) Отправиться на место эвакуации
- 6) Ждать дальнейших указаний

Задание 3. Впишите в таблицу название вида костра.

	<p>Колодец</p>
---	----------------


	Кюзя
	Полнезубский
	Звездный
	Шлапаш

Надевание противогаза

Контрольное время: юноши – 10 сек, девушки – 10 сек

Максимальная оценка – 25 баллов

По команде судьи надеть противогаз в соответствии с правилами


№	Ошибки	Штраф (баллы)
1	Не было задержано дыхание	5
2	Не были закрыты глаза	5
3	Образовались складки после надевания противогаза, очковый узел расположен не на уровне глаз	10
4	Не был выполнен выдох	5
5	Задание не выполнялось	25
Сумма штрафных баллов		0
Оценка задания с учетом штрафных баллов 25		Подпись судьи 

Ориентирование на три точки

Контрольное время: юноши – 3 мин, девушки – 3 мин

Максимальная оценка – 15 баллов

Определить любым способом азимуты на три ориентира, и назвать их судье

№	Ошибки	Штраф (баллы)
1	Отклонение от заданной величины (за каждые 3°)	2
2	Задание не выполнялось	15
Сумма штрафных баллов		8
Оценка задания с учетом штрафных баллов 7		Подпись судьи 

Вязка узлов

Контрольное время: юноши – 2 мин, девушки – 2 мин

Максимальная оценка – 35 баллов

Связать любые узлы из перечня: **проводник, проводник восьмерка, прямой**

№	Ошибки	Штраф (баллы)
1	Не завязан или не правильно завязан контрольный узел (за каждую ошибку)	5
2	Перекручены пряди в узле (перехлест) (за каждую ошибку)	5
3	Узел не затянут	5
4	Узел развязался или изменил рисунок (за каждую ошибку)	10
5	Завязан узел, несоответствующий заданию или не завязан вовсе (за каждую ошибку)	10
6	Задание не выполнялось	35
Сумма штрафных баллов		<i>30</i>
Оценка задания с учетом штрафных баллов <i>5</i>		Подпись судьи <i>[Подпись]</i>

Выполнение гражданского переворота

Контрольное время: юноши – 1 мин, девушки – 1 мин

Максимальная оценка – 25 баллов

Участник выполняет «гражданский переворот», придать пострадавшему устойчивое боковое положение, называя все действия, которые выполняет

№	Ошибки	Штраф (баллы)
1	Не выполнена оценка обстановки (не выполнен осмотр места происшествия, и/или не произнесено: «Обстановка безопасна», или иное, не искажающее смысла)	5
2	Нет словесных комментариев участника по выполняемым действиям	5
3	Неаккуратное обращение с пострадавшим	5
4	Неправильно выполнен гражданский переворот	10
5	Задание не выполнялось	25
Сумма штрафных баллов		<i>10</i>
Оценка задания с учетом штрафных баллов <i>15</i>		Подпись судьи <i>[Подпись]</i>

Итог теоретическая часть *60*

Итог практическая часть *52*

Общий результат *112*

Вешингов О.В. [Подпись]

Форма бланка ответов

Теория: 50
Практика: 55
Итого: 105

ТИТУЛЬНЫЙ ЛИСТ

Всероссийская олимпиада школьников по основам безопасности
жизнедеятельности 2023/24 уч. г.

школьный этап

Шифр участника

0	Б	М	0	9	0	5
---	---	---	---	---	---	---

Фамилия Новикова

Имя Елизавета

Отчество Витальевна

Класс 9

Сокращенное наименование образовательной организации (школы)

МБОУ «Каневская ООШ»

Председатель: А.А. Марусев

Члены жюри: Алиф / Минибаяв М.М.
Алиф / Мареева Г.И.

Всероссийская олимпиада школьников
по предмету «Основы безопасности жизнедеятельности»
школьный этап 2023/2024 учебный год
9 класс

ШИФР

БЛАНК ОТВЕТОВ

Время выполнения 90 мин. Максимальное количество баллов – 100

1. Тестовые задания

Определите один правильный ответ.

1. Как необходимо тушить горящую вертикальную поверхность огнетушителем?

- а) сверху вниз
- б) справа налево
- в) слева направо
- г) снизу вверх

Ответ Г

2. Что из перечисленного обеспечивает наибольшую защиту органов дыхания, лица и глаз?

- а) ПТМ-1
- б) ПДФ-Ш
- в) ПТМ-2
- г) Р-2

Ответ б

3. По какому из перечисленных ниже показателей должен осуществлять подбор письменного стола для обучающегося?

- а) возраст
- б) масса тела
- в) длина тела
- г) класс

Ответ

а, в

4. Какое из нижеперечисленных утверждений является основным правилом иммобилизации при вывихе?

- а) для иммобилизации нельзя использовать подручный материал
- б) для иммобилизации применять только повязку
- в) пытаться вправить смещённые кости, а затем фиксировать конечность
- г) конечность фиксировать в таком положении, в котором она оказалась в результате травмы

Ответ: г

5. Какое из нижеперечисленных ранений может привести к опасной для жизни кровопотере в течение 2–4 минут при прочих равных условиях?

- а) повреждение артерии бедра
- б) повреждение артерии предплечья
- в) повреждение артерии нижней трети голени
- г) повреждение артерий кисти

Ответ б

Определите все правильные ответы.

6. Что из перечисленного относится к средствам защиты человека при пожаре?

- а) СОН «Шанс»
- б) ГП-7В
- в) Л-1
- г) ОЗК
- д) ГЗДК

Ответ в, г

7. Какие из перечисленных растений являются опасными для человека?

- а) борщевик
- б) будра плющевидная
- в) паслен сладко-горький
- г) горицвет кукушкин
- д) гравилат городской

Ответ а, г

8. В каких местах наиболее опасно находиться, если в помещении присутствует толпа людей?

- а) в углах
- б) в проходах
- в) возле стен
- г) в дверях
- д) в рекреации

Ответ г

9. Какие из признаков свидетельствуют об улучшении погоды?

- а) давление постепенно падает
- б) туман стелется по долинам
- в) давление постепенно растёт
- г) ночью выпадает обильная роса
- д) вечерняя заря имеет ярко-красный цвет

Ответ г

10. Что из указанного относится к простейшим укрытиям?

- а) горная выработка
- б) перекрытая щель
- в) землянка
- г) ПРУ
- д) первый этаж зданий

Ответ б, в

11. С каким интервалом и в течение скольких минут передается информационное сообщение о ЧС?

- а) с интервалом 30 секунд
- б) с интервалом 50 секунд
- в) в течение 5 минут
- г) в течение 10 минут
- д) в течение 8 минут

Ответ б

12. Какие ЧС относятся к техногенным?

- а) зажоры
- б) магнитные бури
- в) прорывы плотин
- г) обрушение зданий
- д) экстремальные температуры

Ответ г

13. Какие показатели используют для оценки физического развития человека?

- а) артериальное давление
- б) масса тела
- в) пульс
- г) длина тела
- д) содержание глюкозы в крови

Ответ а, г

14. Где должны располагаться руки «спасателя» при проведении непрямого массажа сердца пострадавшему?

- а) центр грудины (ориентировочно)
- б) справа от грудины
- в) слева от грудины
- г) на 3–4 см выше нижнего края грудины
- д) на 1–2 см ниже верхнего края грудины

Ответ а

15. Какие средства имеются в аптечке первой помощи (автомобильной) для остановки (временной остановки) артериального кровотечения?

- а) бинт эластичный
- б) кровоостанавливающий жгут
- в) бинты марлевые
- г) лейкопластырь
- д) перекись водорода, 0,5% раствор

Ответ б, в, г

Теоретические задания

Задание 1. В жилом доме возник пожар. На Ваших глазах из очага пожара выбежал человек в горячей одежде. Горит рубашка в области спины. Как оказать первую помощь пострадавшему? Заполните таблицу, отмечая знаком «+» мероприятия, которые необходимо выполнить для оказания первой помощи, и знаком «-» – мероприятия, которые запрещены, если у пострадавшего в месте ожога отмечаются целые и лопнувшие пузыри.


Необходимо выполнить, отметить «+»	Мероприятия первой помощи	Нельзя делать, отметить «-»
+	1. Устранить действие повреждающего агента (потушить одежду).	
	2. Уложить пострадавшего на живот	* -
+	3. Убрать с места повреждения пригоревшую к тканям одежду	
	4. Вскрыть образовавшиеся пузыри	-
	5. Наложить чистую сухую	


+	ткань на место ожога	
	6. Приложить холодную мокрую ткань на место ожога	-
+	7. Приложить холод поверх ткани (повязки)	
	8. Дать обильное питье	-
	9. Смазать место ожога маслом (жиром)	-
+	10. Вызвать скорую медицинскую помощь	

Задание 2. Опишите порядок действий при получении распоряжения на проведение эвакуации.

- 1) Прослушать о начале эвакуации.
- 2) Собрать документ
- 3) Выключить все приборы.
- 4) Закрыть дверь на замок.
- 5) Прибыть на пункт
- 6) Идти указателю.

Задание 3. Впишите в таблицу название вида костра.

	<p>колодезь</p>
---	-----------------



Кодьд



Полнезчийский



Звездный




шалаш

Надевание противогаза

Контрольное время: юноши – 10 сек, девушки – 10 сек

Максимальная оценка – 25 баллов

По команде судьи надеть противогаз в соответствии с правилами


№	Ошибки	Штраф (баллы)
1	Не было задержано дыхание	5
2	Не были закрыты глаза	5
3	Образовались складки после надевания противогаза, очковый узел расположен не на уровне глаз	10
4	Не был выполнен выдох	5
5	Задание не выполнялось	25
Сумма штрафных баллов		5
Оценка задания с учетом штрафных баллов 20		Подпись судьи 

Ориентирование на три точки

Контрольное время: юноши – 3 мин, девушки – 3 мин

Максимальная оценка – 15 баллов

Определить любым способом азимуты на три ориентира, и назвать их судье

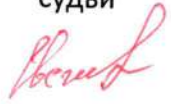
№	Ошибки	Штраф (баллы)
1	Отклонение от заданной величины (за каждые 3°)	2
2	Задание не выполнялось	15
Сумма штрафных баллов		0
Оценка задания с учетом штрафных баллов 15		Подпись судьи 

Вязка узлов

Контрольное время: юноши – 2 мин, девушки – 2 мин

Максимальная оценка – 35 баллов

Связать любые узлы из перечня: проводник, проводник восьмерка, прямой


№	Ошибки	Штраф (баллы)
1	Не завязан или не правильно завязан контрольный узел (за каждую ошибку)	5
2	Перекручены пряди в узле (перехлест) (за каждую ошибку)	5
3	Узел не затянут	5
4	Узел развязался или изменил рисунок (за каждую ошибку)	10
5	Завязан узел, несоответствующий заданию или не завязан вовсе (за каждую ошибку)	10
6	Задание не выполнялось	35
Сумма штрафных баллов		30
Оценка задания с учетом штрафных баллов 5		Подпись судьи 

Выполнение гражданского переворота

Контрольное время: юноши – 1 мин, девушки – 1 мин

Максимальная оценка – 25 баллов

Участник выполняет «гражданский переворот», придать пострадавшему устойчивое боковое положение, называя все действия, которые выполняет

№	Ошибки	Штраф (баллы)
1	Не выполнена оценка обстановки (не выполнен осмотр места происшествия, и/или не произнесено: «Обстановка безопасна», или иное, не искажающее смысла)	5
2	Нет словесных комментариев участника по выполняемым действиям	5
3	Неаккуратное обращение с пострадавшим	5
4	Неправильно выполнен гражданский переворот	10
5	Задание не выполнялось	25
Сумма штрафных баллов		10
Оценка задания с учетом штрафных баллов 15		Подпись судьи 

Итог теоретическая часть 50

Итог практическая часть 55

Общий результат 105



Форма бланка ответов

Теория: 42
Практика: 60
Итого: 102

ТИТУЛЬНЫЙ ЛИСТ

Всероссийская олимпиада школьников по основам безопасности
жизнедеятельности 2023/24 уч. г.

Школьный

этап

Шифр участника

0	5	т	0	9	0	6
---	---	---	---	---	---	---

Фамилия Вуров

Имя Степан

Отчество Александрович

Класс 9

Сокращенное наименование образовательной организации (школы)

МБОУ Коневская ООШ

Председатель: Иванов А.А.

Члены жюри: Минин М.М.
Александров А.А.

Всероссийская олимпиада школьников
по предмету «Основы безопасности жизнедеятельности»
школьный этап 2023/2024 учебный год
9 класс

ШИФР 0 5 0 9 0 6

БЛАНК ОТВЕТОВ

Время выполнения 90 мин. Максимальное количество баллов – 100

1. Тестовые задания

Определите один правильный ответ.

1. Как необходимо тушить горящую вертикальную поверхность огнетушителем?

- а) сверху вниз
- б) справа налево
- в) слева направо
- г) снизу вверх

Ответ _____

2. Что из перечисленного обеспечивает наибольшую защиту органов дыхания, лица и глаз?

- а) ПТМ-1
- б) ПДФ-Ш
- в) ПТМ-2
- г) Р-2

Ответ _____

3. По какому из перечисленных ниже показателей должен осуществлять подбор письменного стола для обучающегося?

- а) возраст
- б) масса тела
- в) длина тела
- г) класс

Ответ _____

4. Какое из нижеперечисленных утверждений является основным правилом иммобилизации при вывихе?

- а) для иммобилизации нельзя использовать подручный материал
- б) для иммобилизации применять только повязку
- в) пытаться вправить смещённые кости, а затем фиксировать конечность
- г) конечность фиксировать в таком положении, в котором она оказалась в результате травмы

Ответ: _____

5. Какое из нижеперечисленных ранений может привести к опасной для жизни кровопотере в течение 2–4 минут при прочих равных условиях?

- а) повреждение артерии бедра
- б) повреждение артерии предплечья
- в) повреждение артерии нижней трети голени
- г) повреждение артерий кисти

Ответ _____

Определите все правильные ответы.

6. Что из перечисленного относится к средствам защиты человека при пожаре?

- а) СОН «Шанс»
- б) ГП-7В
- в) Л-1
- г) ОЗК
- д) ГЗДК

Ответ _____

7. Какие из перечисленных растений являются опасными для человека?

- а) борщевик
- б) будра плющевидная
- в) паслен сладко-горький
- г) горичвет кукушкин
- д) гравилат городской

Ответ _____

8. В каких местах наиболее опасно находиться, если в помещении присутствует толпа людей?

- а) в углах
- б) в проходах
- в) возле стен
- г) в дверях
- д) в рекреации

Ответ _____

9. Какие из признаков свидетельствуют об улучшении погоды?

- а) давление постепенно падает
- б) туман стелется по долинам
- в) давление постепенно растёт
- г) ночью выпадает обильная роса
- д) вечерняя заря имеет ярко-красный цвет

Ответ _____

10. Что из указанного относится к простейшим укрытиям?

- а) горная выработка
- б) перекрытая щель
- в) землянка
- г) ПРУ
- д) первый этаж зданий

Ответ _____

11. С каким интервалом и в течение скольких минут передается информационное сообщение о ЧС?

- а) с интервалом 30 секунд
- б) с интервалом 50 секунд
- в) в течение 5 минут
- г) в течение 10 минут
- д) в течение 8 минут

Ответ _____

12. Какие ЧС относятся к техногенным?

- а) зажоры
- б) магнитные бури
- в) прорывы плотин
- г) обрушение зданий
- д) экстремальные температуры

Ответ _____

13. Какие показатели используют для оценки физического развития человека?

- а) артериальное давление
- б) масса тела
- в) пульс
- г) длина тела
- д) содержание глюкозы в крови

Ответ _____

14. Где должны располагаться руки «спасателя» при проведении непрямого массажа сердца пострадавшему?

- а) центр грудины (ориентировочно)
- б) справа от грудины
- в) слева от грудины
- г) на 3–4 см выше нижнего края грудины
- д) на 1–2 см ниже верхнего края грудины

Ответ _____

15. Какие средства имеются в аптечке первой помощи (автомобильной) для остановки (временной остановки) артериального кровотечения?

- а) бинт эластичный
- б) кровоостанавливающий жгут
- в) бинты марлевые
- г) лейкопластырь
- д) перекись водорода, 0,5% раствор

Ответ _____

Теоретические задания


Задание 1. В жилом доме возник пожар. На Ваших глазах из очага пожара выбежал человек в горящей одежде. Горит рубашка в области спины. Как оказать первую помощь пострадавшему? Заполните таблицу, отмечая знаком «+» мероприятия, которые необходимо выполнить для оказания первой помощи, и знаком «-» – мероприятия, которые запрещены, если у пострадавшего в месте ожога отмечаются целые и лопнувшие пузыри.





Необходимо выполнить, отметить «+»	Мероприятия первой помощи	Нельзя делать, отметить «-»
+	1. Устранить действие повреждающего агента (потушить одежду),	
+	2. Уложить пострадавшего на живот	
+	3. Убрать с места повреждения пригоревшую к тканям одежду	
	4. Вскрыть образовавшиеся пузыри	-
+	5. Наложить чистую сухую	

	ткань на место ожога	-
+	6. Приложить холодную мокрую ткань на место ожога	
+	7. Приложить холод поверх ткани (повязки)	
+	8. Дать обильное питьё	
	9. Смазать место ожога маслом (жиром)	-
+	10. Вызвать скорую медицинскую помощь	

Задание 2. Опишите порядок действий при получении распоряжения на проведение эвакуации.

Задание 3. Впишите в таблицу название вида костра.

	<p>Колода</p>
---	---------------

	<p>ножья</p>
	<p>пализидный</p>
	<p>звездный</p>
	<p>шалаш.</p>

Надевание противогаза

Контрольное время: юноши – 10 сек, девушки – 10 сек

Максимальная оценка – 25 баллов

По команде судьи надеть противогаз в соответствии с правилами

№	Ошибки	Штраф (баллы)
1	Не было задержано дыхание	5
2	Не были закрыты глаза	5
3	Образовались складки после надевания противогаза, очковый узел расположен не на уровне глаз	10
4	Не был выполнен выдох	5
5	Задание не выполнялось	25
Сумма штрафных баллов		0
Оценка задания с учетом штрафных баллов <i>25</i>		Подпись судьи <i>Васильев</i>

Ориентирование на три точки

Контрольное время: юноши – 3 мин, девушки – 3 мин

Максимальная оценка – 15 баллов

Определить любым способом азимуты на три ориентира, и назвать их судье

№	Ошибки	Штраф (баллы)
1	Отклонение от заданной величины (за каждые 3°)	2
2	Задание не выполнялось	15
Сумма штрафных баллов		0
Оценка задания с учетом штрафных баллов <i>15</i>		Подпись судьи <i>Васильев</i>

Вязка узлов

Контрольное время: юноши – 2 мин, девушки – 2 мин

Максимальная оценка – 35 баллов

Связать любые узлы из перечня: проводник, проводник восьмерка, прямой

№	Ошибки	Штраф (баллы)
1	Не завязан или не правильно завязан контрольный узел (за каждую ошибку)	5
2	Перекручены пряди в узле (перехлест) (за каждую ошибку)	5
3	Узел не затянут	5
4	Узел развязался или изменил рисунок (за каждую ошибку)	10
5	Завязан узел, несоответствующий заданию или не завязан вовсе (за каждую ошибку)	10
6	Задание не выполнялось	35
Сумма штрафных баллов		35
Оценка задания с учетом штрафных баллов 0		Подпись судьи <i>Васильев</i>

Выполнение гражданского переворота

Контрольное время: юноши – 1 мин, девушки – 1 мин

Максимальная оценка – 25 баллов

Участник выполняет «гражданский переворот», придать пострадавшему устойчивое боковое положение, называя все действия, которые выполняет

№	Ошибки	Штраф (баллы)
1	Не выполнена оценка обстановки (не выполнен осмотр места происшествия, и/или не произнесено: «Обстановка безопасна», или иное, не искажающее смысла)	5
2	Нет словесных комментариев участника по выполняемым действиям	5
3	Неаккуратное обращение с пострадавшим	5
4	Неправильно выполнен гражданский переворот	10
5	Задание не выполнялось	25
Сумма штрафных баллов		5
Оценка задания с учетом штрафных баллов 20		Подпись судьи <i>Васильев</i>

Итог теоретическая часть 42

Итог практическая часть 60

Общий результат 102

Васильев О.В. Шерст